

الاسم واللقب


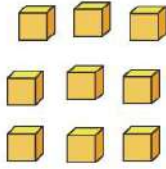
تقويم الأعداد و الحساب

النشاط الأول: أكمل متتالية الأعداد:

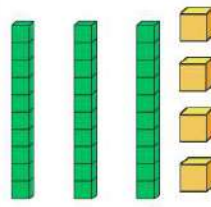
....	....	23	....	....	....	....	....	....	....	....	....	....	....
------	------	----	------	------	------	------	------	------	------	------	------	------	------

النشاط الثاني: اكتب الأعداد الممثلة بالأرقام

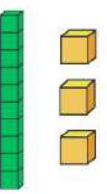
عشرات	وحدات
.....	.....
.....	



عشرات	وحدات
.....	.....
.....	

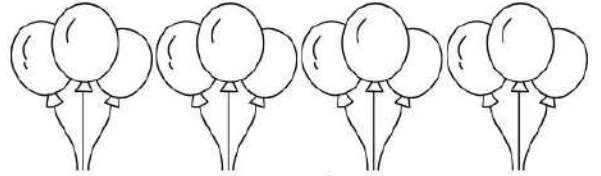


عشرات	وحدات
.....	.....
.....	



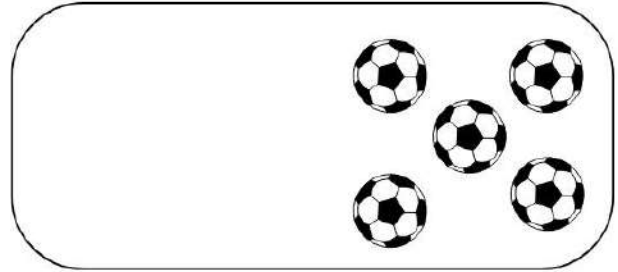
النشاط الثالث: لون نصف البالونات ثم اكمل

نصف 12 هو .....



النشاط الرابع: اكمل رسم نصف الكرات

نصف 5 هو .....



الوضعية الإدماجية:

زار أحمد و خديجة مزرعة الجد ، فساعده في جمع البيض .  
جمع أحمد 10 بيضات ، و جمعت خديجة 9 بيضات .  
كم جمع أحمد و خديجة معًا ؟  
لون العملية الصحيحة و قم بالحساب .



جمع أحمد و خديجة معًا ..... بيضة .

$$10 - 9 = \dots\dots$$

$$10 + 9 = \dots\dots$$

اكتب النتيجة بالحروف: .....